


ТАЙМЫРСКИЙ ДОЛГАНО-НЕНЕЦКИЙ МУНИЦИПАЛЬНЫЙ РАЙОН  
ВСЕРОССИЙСКАЯ ОЛИМПИАДА ШКОЛЬНИКОВ 2024/2025 УЧЕБНОГО ГОДА  
ШКОЛЬНЫЙ ЭТАП.  
**ОСНОВЫ БЕЗОПАСНОСТИ И ЗАЩИТЫ РОДИНЫ**  
**5-7 КЛАССЫ**

Время выполнения - 60 минут

Общее количество баллов - 70

Часть 1.

№	Тестовые задания	Прав. ответ
	<p align="center"><b>Определите один правильный ответ (максимально 20 баллов)</b> <i>За правильный ответ начисляется - 2 балла, отмечены все ответы - 0 баллов</i></p>	
1.	<p><b>Движение организованной пешеходной колонны по проезжей части дороги разрешается только по направлению движения транспортных средств по правой стороне не более чем по:</b></p> <p>а) два человека в ряд;          б) три человека в ряд;  <input checked="" type="radio"/> в) четыре человека в ряд;          г) пять человек в ряд.</p>	
2.	<p><b>Что означает следующий символ, используемый в международной кодовой таблице сигналов бедствия?</b></p> <p>а) нужны медикаменты;          б) нужны оружие и боеприпасы;  <input checked="" type="radio"/> в) нужны компас и карты;          г) нужны продовольствие и вода.</p> 	
3.	<p><b>Сколько классов разрушений включает специальная шкала, разработанная для оценки разрушительной силы смерчей?</b></p> <p>а) 4 класса;          б) 5 классов;  <input checked="" type="radio"/> в) 6 классов;          г) 7 классов.</p>	
4.	<p><b>Объясните цель дезактивации:</b></p> <p><input checked="" type="radio"/> а) удаление или снижение радиоактивного загрязнения с какой-либо поверхности;          б) нейтрализация отравляющих веществ до нетоксичных продуктов и удаление их с какой-либо поверхности;          в) уничтожение биологических средств во внешней среде и на какой-либо поверхности;          г) измерение уровня радиоактивного загрязнения какой-либо поверхности.</p>	
5.	<p><b>Оцените силу землетрясения в 7 баллов по шкале Меркалли:</b></p> <p>а) в домах раскачиваются висящие предметы, скрипят полы, дребезжат стёкла, осыпается побелка;  <input checked="" type="radio"/> б) значительные повреждения некоторых зданий, трещины в штукатурке, отламываются её отдельные куски, тонкие трещины в стенах;          в) лёгкое повреждение некоторых зданий, тонкие трещины в штукатурке;          г) разрушения в зданиях, большие трещины в стенах, падают карнизы, дымовые трубы.</p>	

6.	<p><b>Определите комплект средств защиты органов дыхания, который обеспечит наилучшую защиту от окиси углерода:</b></p> <p>а) ГП-7;  б) ГП-7 + ДПГ-3;  <input checked="" type="radio"/> в) ГП-5 + ДПГ-1;  г) ПДФ-2Ш.</p>	25
7.	<p><b>С какого года отмечается День солидарности в борьбе с терроризмом?</b></p> <p>а) 2001;  <input checked="" type="radio"/> б) 2004;  в) 1999;  г) 2011.</p>	25
8.	<p><b>Какое негативное воздействие оказывает никотин на организм человека?</b></p> <p><input checked="" type="radio"/> а) канцерогенное;  б) нарушение способности эритроцитов переносить кислород;  в) повреждение печени;  г) в малых дозах возбуждает, а в больших дозах тормозит деятельность клеток центральной нервной системы;</p>	—
9.	<p><b>Какое из перечисленных кровотечений в течение 3–5 минут приведёт к кровопотере, угрожающей жизни пострадавшего?</b></p> <p>а) кровотечение из вен нижней трети предплечья;  <input checked="" type="radio"/> б) кровотечение из бедренной артерии;  в) кровотечение из артерий стопы;  г) носовое кровотечение.</p>	25
10.	<p><b>Какой процент по отношению к площади общей поверхности тела составляет ладонь человека?</b></p> <p>а) 10%;  б) 5%;  в) 3%;  <input checked="" type="radio"/> г) 1%.</p>	25
<p><b>Определите все правильные ответы (максимально 40 баллов).</b>  <i>За каждый правильный ответ начисляется - 2 балла.</i>  <i>Отмечены все ответы - 0 баллов.</i></p>		
11.	<p><b>Что относят к опасным факторам пожара?</b></p> <p>а) пламя и искры;  б) снижение видимости в дыму;  <input checked="" type="radio"/> в) опасные факторы взрыва, происшедшего вследствие пожара;  г) воздействие огнетушащих веществ;  <input checked="" type="radio"/> д) обрушение зданий и сооружений.</p>	—
12.	<p><b>По степени воздействия на организм вредные вещества бывают:</b></p> <p>а) не опасные;  б) малоопасные;  в) высокотоксичные;  г) умеренно опасные;  д) смертельно опасные.</p>	—
13.	<p><b>К спасательному инвентарю на оборудованном пляже относят:</b></p> <p><input checked="" type="radio"/> а) спасательный жилет;  б) спасательную шлюпку;  в) спасательную лодку;  г) спасательные шары;  <input checked="" type="radio"/> д) спасательный плот.</p>	25

14.	<p><b>Выделите действия, которые целесообразно выполнить при подготовке к землетрясению:</b></p> <p>а) плотно разместить тяжёлые предметы на антресолях;  б) приблизить кровати к наружным стенам;  в) документы и рюкзак с набором вещей хранить в одном месте;  <input checked="" type="radio"/> г) отодвинуть мебель от стен;  <input checked="" type="radio"/> д) договориться о месте сбора после землетрясения.</p>	25
15.	<p><b>Укажите основные признаки приближения бури:</b></p> <p>а) быстро увеличивается атмосферное давление;  б) неожиданно прекращается ветер и образуется затишье;  <input checked="" type="radio"/> в) резко падает атмосферное давление;  <input checked="" type="radio"/> г) усиливается скорость ветра;  д) солнце скрывается в тучах.</p>	45
16.	<p><b>Какие возможны виды эвакуации по длительности проведения?</b></p> <p><input checked="" type="radio"/> а) временная (с возвращением на место жительства в течение нескольких суток);  б) продолжительная (на срок более одного месяца);  в) годовичная (на срок 12 месяцев);  г) кратковременная (на срок 1–3 дня);  д) сезонная (на срок от 3 до 6 месяцев).</p>	35
17.	<p><b>Слово «террор» в переводе (с латыни) означает:</b></p> <p><input checked="" type="radio"/> а) страх;  б) паника;  в) крайность;  <input checked="" type="radio"/> г) ужас;  д) преступление.</p>	45
18.	<p><b>Какие показатели самоконтроля, применяемые для профилактики переутомления, относятся к субъективным?</b></p> <p>а) частота сердечных сокращений;  <input checked="" type="radio"/> б) самочувствие;  <input checked="" type="radio"/> в) сон;  г) частота дыхания;  д) величина артериального давления;</p>	45
19.	<p><b>Какие из перечисленных средств входят в состав аптечки первой помощи (автомобильной)?</b></p> <p><input checked="" type="radio"/> а) кожный антисептик (хлоргексидин);  б) шина эластичная;  <input checked="" type="radio"/> в) жгут кровоостанавливающий;  г) медицинские перчатки;  д) обезболивающее средство (анальгин).</p>	—
20.	<p><b>Какие признаки характерны для ушиба конечности?</b></p> <p><input checked="" type="radio"/> а) отёк, гематома;  б) деформация конечности;  в) укорочение конечности;  <input checked="" type="radio"/> г) нарушение функции конечности;  д) патологическая подвижность в месте повреждения.</p>	45






Количество баллов \_\_\_\_\_

Часть 2.  
Теоретические задания.

Задание 1.

Впишите в таблицу смысловое значение знаков сервиса.

Ответ:

			Больница
			
	место для туризма		

Количество баллов 40

Максимальное количество за задание - 10 баллов.

465